



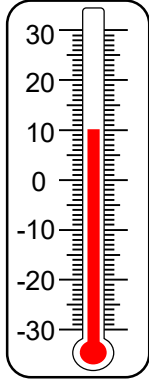
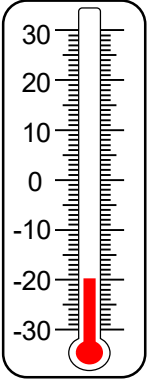
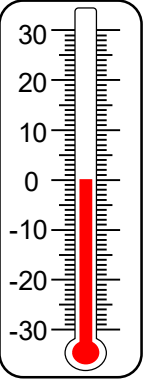
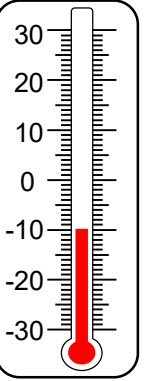
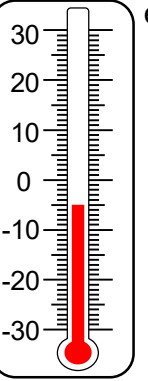
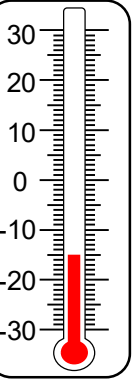


Сурагчийн нэр:

Эхэлсэн: он сар өдөр

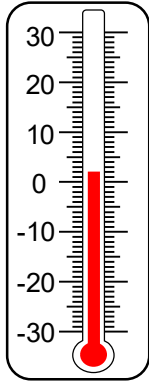
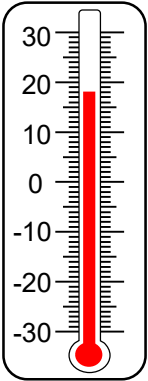
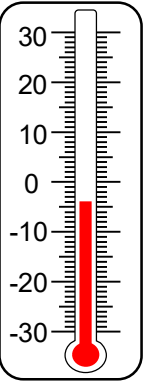
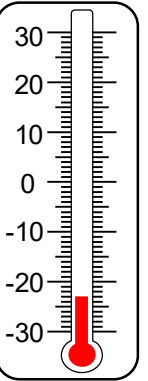
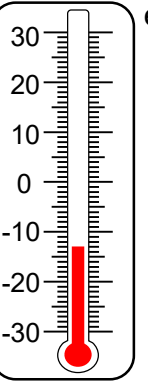



-3 хэм
 Термометрийн сөрөг заалтыг уншихдаа уг заалт хүртэл 0-ээс доош байрлах зураасуудын тоог олно.

1 Термометрийн заалтыг бичээрэй.

а.  б.  в.  г.  д.  е. 

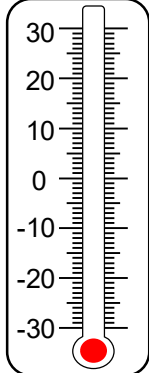
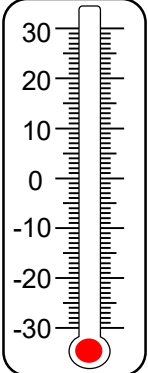
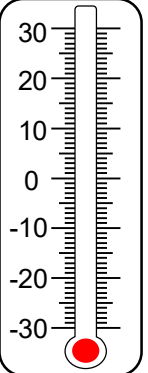
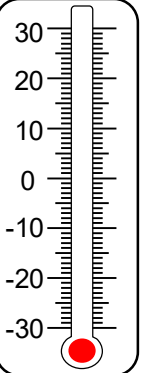
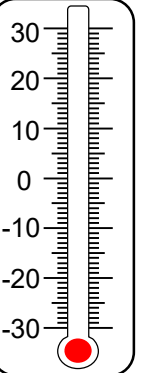
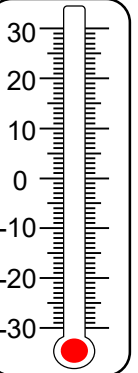
ж. Дээрх заалтуудыг өсөх эрэмбээр бичээрэй.

2 Термометрийн заалтыг бичээрэй.

а.  б.  в.  г.  д.  е. 

3 Агаарын температурын заалтыг термометр дээр дүрслээрэй.

а. -10 б. 15 в. -25 г. -7 д. -14 е. -28

Дууссан:сарөдөр



Даалгавар	1	2	3
Өөрийн үнэлгээ			

Сурагчийн нэр:

Эхэлсэн: он сар өдөр

1 Улаанбаатар хотын 5 хоногийн өдөр, шөнийн цаг агаарын мэдээг харуулав.



а. Агаарын температурыг буурах эрэмбээр бичээрэй.

Өдөр: _____, _____, _____, _____, _____

Шөнө: _____, _____, _____, _____, _____

б. Ямар гарагт өдөртөө хамгийн дулаан байна вэ? _____

в. Ямар гарагт шөнөдөө хамгийн хүйтэн байна вэ? _____

2 Долоо хоногийн турш агаарын температурыг хүснэгтэд бүртгэн бичээрэй.

	Даваа	Мягмар	Лхагва	Пүрэв	Баасан	Бямба	Ням
Өдөр							
Шөнө							

а. Долоо хоногийн агаарын температурыг өсөх эрэмбээр бичээрэй.

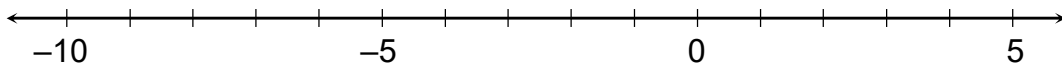
Өдөр: _____, _____, _____, _____, _____, _____, _____

Шөнө: _____, _____, _____, _____, _____, _____, _____

б. Ямар гарагт өдөртөө хамгийн дулаан байсан бэ? _____

в. Ямар гарагт шөнөдөө хамгийн хүйтэн байсан бэ? _____

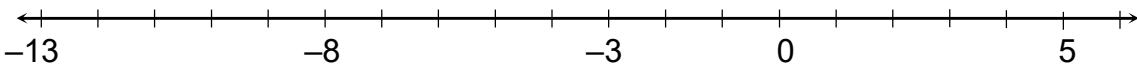
3 Тоон шулуун хэрэглэн өгсөн нөхцөлийг хангах гурван тоо бичээрэй.



а. $2 < \square$ б. $-2 < \square$ в. $-5 > \square$ г. $\square < -3$ д. $\square > -9$

_____, _____, _____ _____, _____, _____ _____, _____, _____

4 Тоон шулуун хэрэглэн дараагийн гурван тоог бичээрэй.



а. -1, 0, 1, _____, _____, _____.

г. -5, -4, -3, _____, _____, _____.

б. 3, 2, 1, _____, _____, _____.

д. -6, -7, -8, _____, _____, _____.

в. 1, 0, -1, _____, _____, _____.

е. -13, -12, -11, _____, _____, _____.

Дууссан:сарөдөр



Даалгавар	1	2	3	4
Өөрийн үнэлгээ	😊	😊	😊	😊

